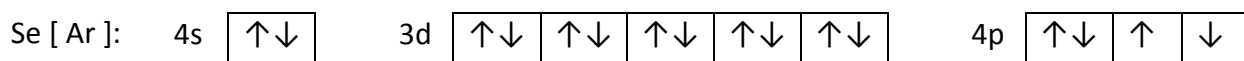
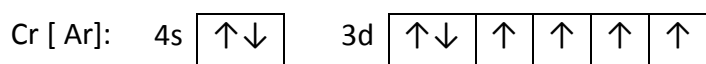



Téma: Elektronová konfigurace

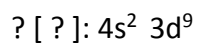
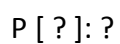
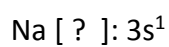
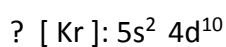
Jméno a příjmení:

Třída:

1. Najděte chybně zapsané elektronové konfigurace a opravte je:



2. Doplňte chybějící údaje:



3. Zapište elektronovou konfiguraci cínu Sn, K, Si, Ba a Cl a určete počet valenčních elektronů v obalech atomů.